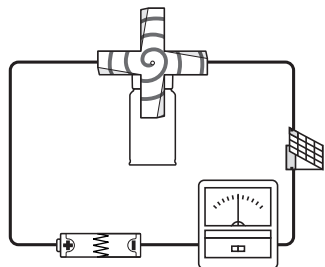


かん電池のつなぎ方と 電流の大きさとはたらき (モーター)

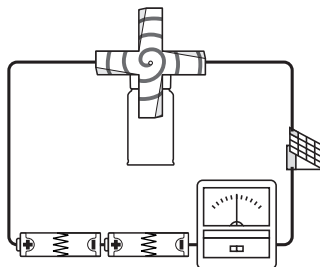
組

名前

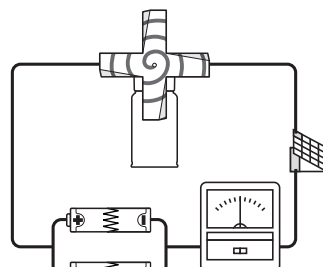
かん電池2このつなぎ方で、モーターの回る速さがかわるわけを調べよう。



かん電池1こをつないだときの
電流の大きさはかる。



かん電池2こを直列つなぎに
したときの電流の大きさはかる。



かん電池2こをへい列つなぎに
したときの電流の大きさはかる。

けっか

かん電池の つなぎ方	電流の大きさ	モーターの回る速さ
1こ		
2こ直列		
2こへい列		

わかったこと

.....

.....

.....

.....

.....